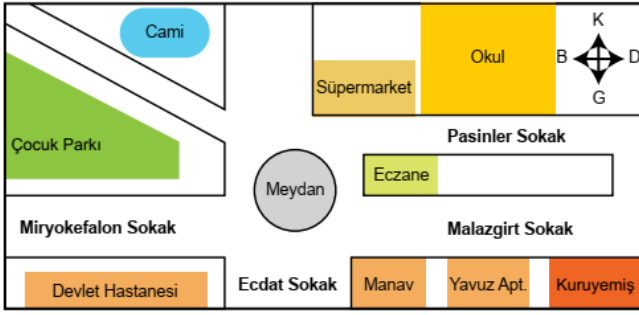


1.



Krokiye göre eczanenin bulunduğu coğrafi konum ile ilgili aşağıdakilerden hangisi yanlıştır?

- A) Manavın kuzeyindedir.
- B) Çocuk parkının doğusundadır.
- C) Süpermarketin güneyindedir.
- D) Devlet hastanesinin batısındadır.

2. Bir yerin mutlak (matematik) konum özellikleri paralel ve meridyen dereceleri dikkate alınarak belirlenir.

Buna göre Türkiye'nin aşağıdaki özelliklerinden hangisi mutlak konum ile ilgili değildir?

- A) Ekvatorun kuzeyinde yer alması
- B) Başlangıç meridyeninin doğusunda yer alması
- C) Asya ve Avrupa kıtaları arasında yer alması
- D) Güney kıyılarının kuzey kıyılarından daha sıcak olması

3. ● Yağışların fazla olması pirinç üretimini kolaylaştırır.
● Mobilya ve gemi yapımında teak adı verilen ağaçlardan faydalanılır.

Yukarıda bilgi verilen iklim tipi aşağıdakilerden hangisidir?

- A) Ekvatorial iklim
- B) Muson iklimi
- C) Akdeniz iklimi
- D) Kutup iklimi

4. Dünya üzerindeki herhangi bir yerin; kıtalara, okyanuslara, denizlere, önemli geçit ve boğazlara, ticaret ve su yollarına, önemli madenlere ve kentlere uzaklığı, yükseltisi ve yer şekilleri gibi özellikleri o yerin göreceli (özel) konumunu belirler.

Buna göre aşağıdakilerden hangisi Türkiye'nin göreceli konumunun sonuçlarından biri değildir?

- A) Üç tarafının denizlerle çevrili olması
- B) Ortalama yükseltisinin fazla olması
- C) Yer altı kaynakları bakımından zengin olması
- D) Güneyden kuzeye sıcaklık değerlerinin azalması

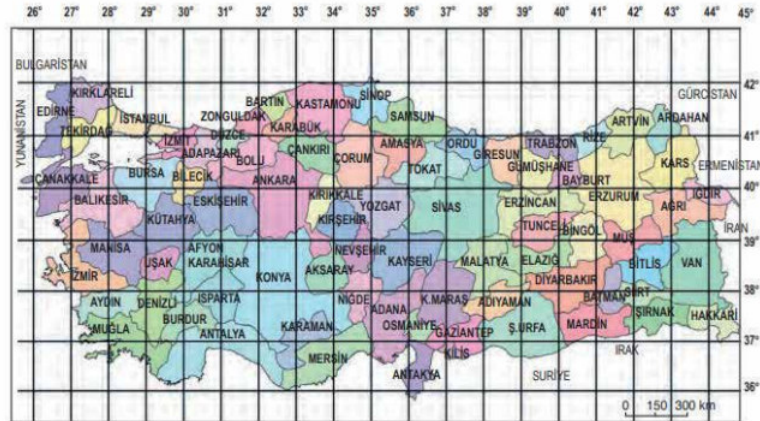
5. Meridyen ve paraleller ile ilgili, aşağıda verilen bilgilerden hangisi yanlıştır?

- A) Başlangıç meridyeni Greenwich'ten geçmektedir.
- B) Ekvator Dünya'yı Kuzey ve Güney Yarım Küre olarak ikiye ayırır.
- C) Paralel dairelerin çevre uzunlukları her yerde aynıdır.
- D) Meridyen yayları Ekvatoru dik olarak keser.

6. Türkiye $36^\circ - 42^\circ$ kuzey paralelleri arasında yer alır. Bu bilgiden hareketle Türkiye'nin konumu ile ilgili hangisi söylenemez?

- A) Türkiye Kuzey Yarım Küre'de yer alır.
- B) Türkiye'nin en kuzeyinde 42° kuzey paraleli bulunur.
- C) Türkiye'nin en güneyinde 36° kuzey paraleli bulunur.
- D) Türkiye Güney Kutup Noktası'na, Kuzey Kutup Noktası'ndan daha yakındır.

7 - 8. soruları aşağıda verilen haritayı dikkate alarak cevaplayınız.



7. $43^\circ - 44^\circ$ Doğu meridyeni ile $38^\circ - 39^\circ$ Kuzey paralelleri arasında toprakları bulunan il aşağıdakilerden hangisidir?

- A) Van
- B) Ankara
- C) Izmir
- D) Konya

8. Aksaray il merkezinde yer alan Tunay Bey, Aksaray'ın kuzey doğu yönüne seyahat edecektir. Tunay Bey'in bu seyahatinde aşağıda verilen koordinatlardan hangisinden geçmesi beklenmez?

- A) 39° Kuzey paraleli 40° Doğu meridyeni
- B) 41° Kuzey paraleli 30° Doğu meridyeni
- C) 41° Kuzey paraleli 39° Doğu meridyeni
- D) 40° Kuzey paraleli 36° Doğu meridyeni

9. Aşağıda verilenlerden hangisinin üzerinde iklimin etkisi yoktur?

- A) Turizm faaliyetleri
- B) Hayvancılık
- C) Yer altı kaynakları
- D) Bitki örtüsünün dağılışı

10. Akdeniz ikliminin, Ege bölgesinin iç kesimlerine kadar ulaşabilmesinde etkili olan faktör aşağıdakilerden hangisidir?

- A) Dağların denize dik uzanması
- B) Kıyılarda maki bitki örtüsünün görülmesi
- C) Akdeniz ve Ege Denizi'nin birbirine bağlı olması
- D) Fay hatlarının doğu-batı yönünde uzanması

11. Dünya üzerinde 360 meridyen yayı vardır. İngiltere'nin Londra şehrinden geçtiği varsayılan meridyen başlangıç meridyeni Greenwich (Grinviç) olarak kabul edilir ve 0 derece olarak gösterilir. Başlangıç meridyenin doğusunda yer alan 180 meridyene doğu meridyenleri, batısında yer alan 180 meridyene ise batı meridyenleri adı verilir. Ardışık iki meridyen arasındaki yerel saat farkı 4 dakikadır.

Buna göre aşağıdakilerden hangisi meridyenlerin bize sağladığı faydalar arasında gösterilemez?

- A) Yönlerimizi bulmada yardımcı olur.
- B) Saatlerimizin ayarlanmasını sağlar.
- C) Yeryüzü şekillerinin dağılışını gösterir.
- D) İki yer arasındaki saat farkını belirtir.

12. Nüfusun dağılışını etkileyen doğal ve beşeri etmenler vardır.

Aşağıdakilerden hangisinde nüfus artışının nedeni beşeri bir etkene dayandırılmıştır?

- A) İzmir de iklim şartlarının elverişli olmasından dolayı nüfusun yoğun olması
- B) İstanbul'da sanayinin gelişmiş olmasından dolayı nüfusun yoğun olması
- C) Adana'da düz ve verimli arazilerin bulunmasından dolayı nüfusun yoğun olması
- D) Antalya'da kışların ılık geçmesinden dolayı nüfusun yoğun olması

13.



Türkiye fiziki haritasından yararlanılarak aşağıdakilerden hangisine ulaşılır?

- A) Yükselti basamaklarına
- B) Yeraltı kaynaklarına
- C) Nüfus yoğunluğuna
- D) Turizm bölgelerine

14. Özel konum: Bir yerin okyanuslara, denizlere, boğazlara ve komşu ülkelere, yükselti ve yer şekillerine, yer altı ve yerüstü zenginliklerine göre konumudur.

Buna göre aşağıdakilerden hangisini Türkiye'nin özel konumuyla ilgili değildir?

- A) Farklı iklimlerin görülmesi
- B) Üç tarafının denizlerle çevrili olması
- C) Kuzeyden, güneye gidildikçe sıcaklığın artması
- D) Petrol ve doğalgaz zengini ülkelere komşu olması

15. Aşağıdakilerden hangisi kutup ikliminin özelliklerinden biri değildir?

- A) Hava sıcaklığı yıl boyu 0°C'nin altındadır.
- B) Temel geçim kaynakları tarım ve hayvancılıktır.
- C) Eskimolar Kutup ikliminin görüldüğü yerlerde yaşarlar.
- D) Köpeklerin çektiği kızaklar önemli ulaşım aracıdır.

16.



Yukarıda verilen Türkiye haritası üzerinde gösterilen iklim tiplerine ait doğal bitki örtüsü sırası ile aşağıdakilerden hangisidir?

- | | <u>KARADENİZ</u> | <u>KARASAL</u> | <u>AKDENİZ</u> |
|----|------------------|----------------|----------------|
| A) | Bozkır | Maki | Orman |
| B) | Orman | Bozkır | Maki |
| C) | Maki | Orman | Bozkır |
| D) | Orman | Maki | Bozkır |

17.

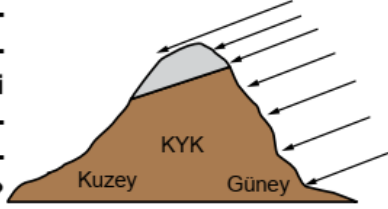


Ben Erzurum'un ilçesi olan Oltu'da yaşıyorum. Kışları çok soğuk geçtiğinden, İzmir'deki dedemin yanına gidiyorum. Burada kışlar daha ılık geçiyor. Hatta bazen küçük bir ısıtıcı ile kışı geçirdiğimiz oluyor.

Erzurum ve İzmir arasındaki sıcaklık farkı aşağıdakilerden hangisiyle açıklanabilir?

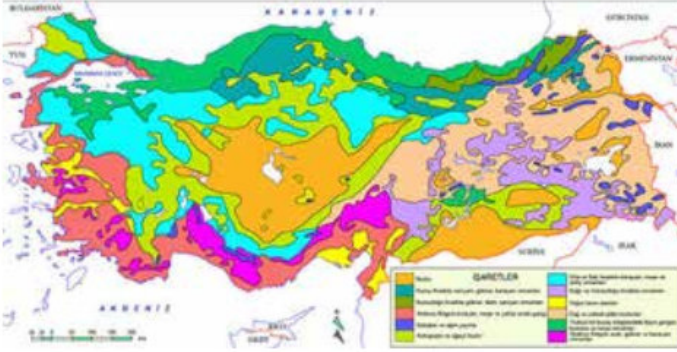
- A) İzmir'in Erzurum'a göre daha batıda olması
- B) İki şehrin arasında uzun mesafenin bulunması
- C) Erzurum'un yükseltisinin İzmir'den fazla olması
- D) İki şehrin enlem derecesinin birbirine yakın olması

18. Türkiye'de bulunan bir dağın güney yamacındaki bir köyün sıcaklığının kuzey yamacındaki köye göre fazla olmasında etkili olan faktör aşağıdakilerden hangisidir?



- A) Enlem
- B) Bakı
- C) Yükselti
- D) Rüzgâr

19. Aşağıdaki haritada Türkiye'deki bitki örtüsü gösterilmektedir.



Türkiye'deki bitki örtüsünün çeşitli olmasının temel nedeni aşağıdakilerden hangisidir?

- A) Dağların Doğu-batı yönüne uzanması
- B) Yükseltisinin fazla olması
- C) Üç kıta arasında olması
- D) İkliminin çeşitli olması

20. Türkiye'ye araştırma için gelen bir grup öğrenci Türkiye ile Yunanistan'ın bitki örtüsünün büyük oranda benzer olduğunu görmüştür.

Buna göre iki ülkenin hangi bakımdan benzer olduğu söylenebilir?

- A) Ülkelerin kapladığı alan
- B) İklim özellikleri
- C) Yer şekilleri
- D) Ekonomi

21. Ülkemizde görülen Akdeniz ikliminin özellikleri şunlardır;

- Yazlar sıcak ve kuraktır.
- Kışlar ılık ve yağışlıdır.

Buna göre Akdeniz ikliminin hakim olduğu kıyı bölgelerde aşağıdaki faaliyetlerden hangisinin gelişmesi beklenemez?

- A) Yaz turizmi
- B) Kış turizmi
- C) Seracılık
- D) Tarım

22. Türkiye'de yaz mevsiminin kurak geçtiği ve kış mevsiminin soğuk ve karlı olduğu iklimlerde tahıl üretimi yapılmaktadır.

Bu iklim türünde aşağıdaki fabrikalardan hangisinin kurulması daha uygundur?

- A) Meyve suyu Fabrikası
- B) Zeytinyağı Fabrikası
- C) Çay Fabrikası
- D) Un Fabrikası

23. • Artvin, Kastamonu, Diyarbakır ve Elazığ illerinde rezervleri bulunmaktadır.
• Kolay işlenebildiği ve iletken olduğu için yaygın bir kullanım alanına sahiptir.
• Elektrik ve elektronik alanında, süs eşya yapımında kullanılmaktadır.

Yukarıda bazı özellikleri verilen maden hangisidir?

- A) Bor
- B) Bakır
- C) Linyit
- D) Boksit

24. Akarsular üzerine yapılan barajlar sayesinde elektrik enerjisi elde etmek mümkündür. Fakat bunun için akarsuların bazı özelliklere sahip olması gerekir.

Buna göre aşağıdaki özelliklerden hangisine sahip olan akarsu elektrik üretimine daha uygundur?

- A) Denize dökülen
- B) Uzunluğu kısa olan
- C) Akış hızlı fazla olan
- D) Tarımsal sulama için kullanılan

CEVAPLAR:

1-D, 2-C, 3-B 4-D, 5-C, 6-D, 7-A, 8-B, 9-C, 10-A, 11-C, 12-B, 13-A, 14-C, 15-B, 16-B, 17-C, 18-B, 19-D, 20-B, 21-B, 22-D, 23-B, 24-C

Bu yaşadığımız süreç kapsamında evde kalmanızı, EBA ve TV aracılığıyla dersleri takip etmenizi rica ederim.

Sağlıklı Günler.